

Mapa Rápido de Estatística para o Enem

Média, Mediana, Moda e Gráficos — tudo o que você precisa saber para gabaritar as questões de estatística do Enem em um guia completo e direto ao ponto.



Por que Estatística no Enem?

O Enem não cobra apenas cálculos mecânicos — ele avalia sua capacidade de **interpretar dados reais**, uma habilidade fundamental para o exercício da cidadania no mundo contemporâneo. Saber ler uma tabela salarial, comparar estatísticas de saúde ou analisar resultados eleitorais são competências diretamente ligadas ao que é cobrado na prova.

Frequência nas Provas



Questões envolvendo média, mediana, moda e leitura de gráficos aparecem praticamente em todas as edições do Enem, tanto na área de Matemática quanto em Ciências Humanas e da Natureza. Dominar esses conceitos garante pontos valiosos.

Pilares do Raciocínio Estatístico

Média, mediana e moda são as três medidas de tendência central mais usadas. Elas resumem conjuntos de dados com um único valor representativo, facilitando comparações e conclusões rápidas — exatamente o que o Enem exige.

Aplicação no Cotidiano

O Enem adora contextualizar a estatística em situações reais: pesquisas de renda, dados populacionais, resultados esportivos e avaliações escolares. Reconhecer qual medida usar em cada contexto é o diferencial de quem ganha nota alta.

  **Dica estratégica:** Concentre-se em compreender o significado de cada medida, não apenas a fórmula. O Enem quase sempre pede interpretação, não só cálculo.

Média: O Valor Central Comum

O que é a Média?

A **média aritmética** é a medida de tendência central mais conhecida. Ela representa o valor que cada elemento do conjunto teria se todos fossem iguais entre si. É obtida somando todos os valores e dividindo pelo total de elementos.

Fórmula

Média = (Soma de todos os valores) ÷ (Quantidade de valores)

Em notação matemática: $\bar{x} = \Sigma x_i / n$, onde Σx_i é a soma de todos os valores e n é o número de elementos do conjunto.

Exemplo Passo a Passo

Notas de 5 alunos em uma prova: **7, 8, 9, 10, 6**

1. Soma: $7 + 8 + 9 + 10 + 6 = 40$
2. Quantidade de valores: **5**
3. Média = $40 \div 5 = 8,0$

A média da turma foi **8,0** — um valor que representa bem o desempenho geral do grupo.



Quando Usar a Média

A média é ideal quando os dados são distribuídos de forma relativamente uniforme, sem valores extremos (outliers) que distorçam o resultado. Por exemplo:

- Calcular a nota final de um aluno ao longo do ano
- Estimar o consumo médio de energia de uma casa
- Comparar o desempenho médio de turmas diferentes

Cuidado com os Outliers

Um único valor muito alto ou muito baixo pode "puxar" a média para cima ou para baixo, tornando-a pouco representativa. Por isso, em distribuições com valores extremos, a **mediana** pode ser uma medida mais adequada.

  Exemplo: Em um grupo com salários de R\$1.000, R\$1.200, R\$1.100 e R\$20.000, a média seria R\$5.825 — um valor que não representa ninguém no grupo!

Mediana: O Valor do Meio

A **mediana** é o valor que ocupa a posição central de um conjunto de dados **ordenado**. Ela divide o conjunto em duas metades iguais: 50% dos valores ficam abaixo dela e 50% acima. A mediana é especialmente útil quando há valores extremos que distorceriam a média.

1

Passo 1: Ordenar

Organize todos os valores em ordem crescente (do menor para o maior). Este passo é **obrigatório** — sem ordenar, não há mediana correta.

2

Passo 2: Contar

Verifique se a quantidade total de valores (n) é **ímpar** ou **par**. Isso determina qual método de cálculo usar.

3

Passo 3: Identificar

Localize o(s) valor(es) central(is): para n ímpar, é o elemento na posição $(n+1)/2$. Para n par, é a média dos elementos nas posições $n/2$ e $n/2+1$.

Exemplo com Quantidade Ímpar ($n = 5$)

Notas: **6, 7, 8, 9, 10** (já ordenadas)

Total de valores: $n = 5$ (ímpar)

Posição central: $(5 + 1) / 2 = 3^{\text{a}}$ **posição**

O 3º valor da sequência ordenada é o **8**.

 **Mediana = 8**

Exemplo com Quantidade Par ($n = 6$)


Notas: **6, 7, 8, 9, 10, 11** (já ordenadas)

Total de valores: $n = 6$ (par)

Dois valores centrais: posições 3 e 4 → valores **8 e 9**

Mediana = $(8 + 9) / 2 = 17 / 2 = 8,5$

 **Mediana = 8,5**

-  **Vantagem da Mediana:** Como ela considera apenas a posição central, não é afetada por valores extremos. Por isso é amplamente usada para representar renda e salários no Brasil (ex.: renda mediana familiar).

Moda: O Valor Mais Frequente

O que é a Moda?

A **moda** (Mo) é o valor que aparece com maior frequência em um conjunto de dados. Diferentemente da média e da mediana, a moda não exige cálculos aritméticos — basta observar quais valores se repetem mais vezes. Por isso, é especialmente útil para dados qualitativos (como cores preferidas, marcas mais vendidas ou cursos mais escolhidos).

Exemplo Detalhado

Notas de uma turma: 7, 8, 8, 9, 10, 10, 10, 11

- 7 aparece 1 vez
- 8 aparece 2 vezes
- 9 aparece 1 vez
- 10 aparece **3 vezes** ← maior frequência
- 11 aparece 1 vez

✅ **Moda = 10** (unimodal)

Tipos de Distribuição Modal

Amodal

Nenhum valor se repete. Ex.: 1, 2, 3, 4, 5

Unimodal

Um único valor tem maior frequência. Ex.: 3, **5, 5, 5**, 7

Bimodal

Dois valores empatam na maior frequência. Ex.: **2, 2**, 4, **6, 6**

Multimodal

Três ou mais valores com mesma frequência máxima.

📌 **Aplicação prática no Enem:** A moda é muito usada em contextos como "qual produto foi mais vendido?", "qual faixa salarial é mais comum?" ou "qual nota foi mais obtida?". Reconhecer esse padrão de linguagem na prova é fundamental.

Gráficos: Visualizando os Dados

Os gráficos são ferramentas poderosas que transformam números em imagens, facilitando a análise e comparação de informações. No Enem, a habilidade de **ler, interpretar e extrair informações** de diferentes tipos de gráficos é tão importante quanto calcular médias e medianas. Antes de resolver qualquer questão com gráfico, leia **título, eixos e legendas** com atenção total.



Gráfico de Barras

Ideal para **comparar quantidades entre categorias** diferentes. As barras podem ser verticais (colunas) ou horizontais. Muito usado para comparar desempenhos, populações ou quantidades entre grupos distintos. No Enem: compare sempre os valores dos eixos e identifique qual categoria é maior ou menor.



Gráfico de Linhas

Perfeito para **mostrar tendências ao longo do tempo**. A linha conecta pontos de dados em ordem cronológica, evidenciando aumentos, quedas e estabilizações. Frequentemente usado para evolução do PIB, crescimento populacional ou variação de temperatura. Atenção: observe a inclinação da linha para identificar crescimento acelerado ou lento.



Gráfico de Pizza (Setores)

Representa **proporções de um todo**, onde cada fatia corresponde a um percentual do total (100%). Muito usado para mostrar distribuição de orçamento, resultados eleitorais ou preferências de consumo. Dica: some os percentuais das fatias para confirmar que totalizam 100%, e compare os tamanhos relativos das fatias.

⚠️ **Armadilha clássica do Enem:** Questões com gráficos frequentemente apresentam escalas que não começam no zero, exagerando visualmente as diferenças. Sempre verifique os valores dos eixos antes de tirar conclusões!

Tabelas: Organizando a Informação

As tabelas são uma das formas mais eficientes de organizar e apresentar dados estruturados. No Enem, elas aparecem com frequência em questões de estatística, ciências e ciências humanas. Saber extrair corretamente as informações de uma tabela é uma competência essencial.

Como Interpretar uma Tabela Corretamente

1 Leia o Título

O título informa o assunto geral da tabela, o período de tempo e a unidade de medida dos dados. Ignorar o título é a causa mais comum de erros de interpretação.

2 Identifique Linhas e Colunas

Os cabeçalhos das linhas (à esquerda) e das colunas (no topo) definem o que cada célula representa. Sempre cruze a linha com a coluna para localizar o dado correto.

3 Verifique a Unidade

Os dados podem estar em unidades absolutas (número de pessoas) ou relativas (porcentagem). Confundir as unidades leva a respostas erradas com frequência no Enem.

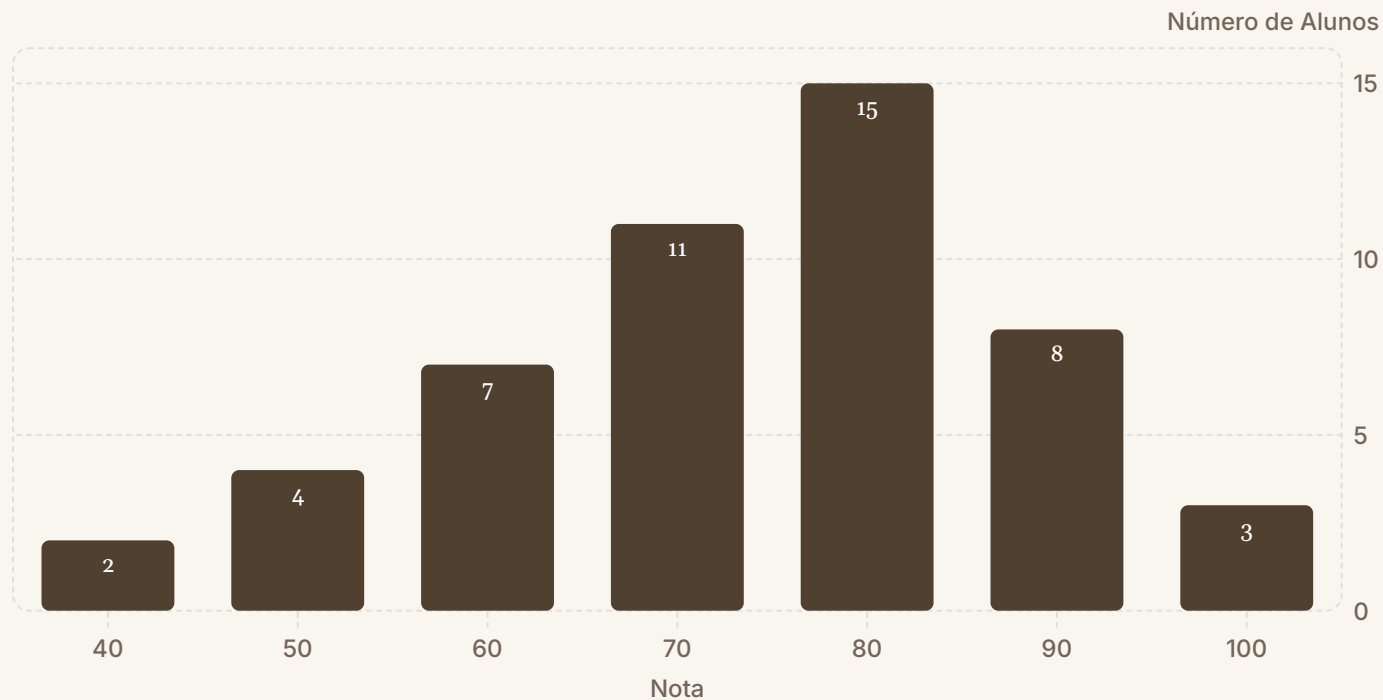
Exemplo de Tabela de Notas

Aluno	Prova 1	Prova 2	Média
Ana	8,0	9,0	8,5
Bruno	6,0	7,0	6,5
Carla	9,0	10,0	9,5
Diego	7,0	8,0	7,5
Elisa	5,0	6,0	5,5

Nesta tabela: a **moda** das médias é inexistente (amodal), a **mediana** das médias é 7,5 (Diego) e a **média** das médias é $(8,5+6,5+9,5+7,5+5,5)/5 = 7,5$.

Distribuição de Notas no Enem: Exemplo Visual

Observe o gráfico abaixo que representa a distribuição de notas de uma turma hipotética. Veja como identificar visualmente a **moda** (barra mais alta), localizar a **mediana** (valor central) e estimar a **média**.



Moda = 8,0

A barra mais alta corresponde à nota **8,0**, com 15 alunos — é o valor que mais se repete, portanto a moda da distribuição. No gráfico, sempre identifique a barra mais alta para encontrar a moda.

Mediana ≈ 8,0

Com 50 alunos no total, o valor central estaria entre o 25º e 26º aluno ordenados. Somando as frequências acumuladas, a mediana cai na faixa de **8,0**. A mediana confirma que metade da turma tirou 8,0 ou menos.

Média ≈ 7,6

Calculando: $(4 \times 2 + 5 \times 4 + 6 \times 7 + 7 \times 11 + 8 \times 15 + 9 \times 8 + 10 \times 3) \div 50 = 380 \div 50 = 7,6$. A média é ligeiramente menor que a moda por causa dos valores baixos no início da distribuição.

Dicas de Ouro para o Enem

Conhecer os conceitos é apenas metade da batalha. As estratégias abaixo fazem a diferença entre errar por distração e acertar com segurança nas questões de estatística do Enem.



Pratique com Questões Reais

Resolva questões de provas anteriores do Enem (disponíveis gratuitamente no site do Inep). A repetição cria familiaridade com o estilo de enunciado, os tipos de gráficos usados e as armadilhas mais comuns. Tente pelo menos 30 questões de estatística antes da prova.



Entenda o Contexto da Questão

O Enem frequentemente omite as palavras "média", "mediana" ou "moda" no enunciado. Você precisa identificar qual medida está sendo pedida pelo contexto: "valor que mais se repete" → moda; "valor do meio" → mediana; "valor representativo geral" → média. Treine reconhecer essas pistas.



Atenção aos Detalhes dos Gráficos

Leia **sempre** o título, os rótulos dos eixos e a legenda antes de responder qualquer alternativa. Verifique a escala do eixo y — ela nem sempre começa no zero. Preste atenção à unidade de medida: milhares, porcentagem, índice, etc. Um erro de leitura de escala pode levar você a uma resposta completamente errada.



Use a Visualização a Seu Favor

Ao receber uma tabela ou conjunto de dados, faça um esboço rápido no rascunho: ordene os valores para encontrar a mediana, circule os valores repetidos para a moda, e calcule a soma para a média. Essa organização visual evita erros de contagem e acelera a resolução em até 50%.

Gabarite Estatística no Enem!

Com esses conceitos bem consolidados, você está pronto para enfrentar qualquer questão de estatística que o Enem apresentar. Lembre-se: a diferença entre errar e acertar raramente está no cálculo — está na **compreensão do que cada medida representa**.

Média

Soma ÷ quantidade. Representa o valor equilibrado do conjunto.
Sensível a valores extremos.

Mediana

Valor central do conjunto ordenado. Não é afetada por outliers. Ideal para dados com extremos.

Moda

Valor mais frequente. Pode ser amodal, unimodal, bimodal ou multimodal. Funciona para dados qualitativos.

Gráficos e Tabelas

Sempre leia título, eixos e legenda. Verifique escalas. Use a visualização para calcular as medidas rapidamente.

"A prática leva à perfeição. Cada questão resolvida é um passo a mais em direção ao gabarito. Acredite no seu preparo e boa sorte na sua prova!"

